

KİTAPÇIK TÜRÜ

K

T.C.
MİLLÎ EĞİTİM BAKANLIĞI
YENİLİK VE EĞİTİM TEKNOLOJİLERİ
GENEL MÜDÜRLÜĞÜ

Ölçme, Değerlendirme ve Yerleştirme Grup Başkanlığı

SERTİFİKA TÜRÜ

A1-A2

1. GRUP

MOTORLU TAŞIT SÜRÜCÜ ADAYLARI SINAVI
08/03/2014

Ad ve Soyadı :
T.C. Kimlik No :

| DERSLER | SORU SAYISI | TOPLAM SORU SAYISI | TOPLAM SÜRE (DAKİKA) |
|-------------------------------|-------------|--------------------|----------------------|
| İLK YARDIM BİLGİSİ | 15 | 45 | 60 |
| TRAFİK VE ÇEVRE BİLGİSİ | 20 | | |
| MOTOR VE ARAÇ TEKNİĞİ BİLGİSİ | 10 | | |

ADAYLARIN DİKKATİNE!

- Sınav saat **11:00**'de başlayacaktır. Sınav süresince dışarı çıkmayınız.
- Sınav sırasında sözlük, hesap cetveli veya makinesi, çağrı cihazı, cep telefonu, telsiz, radyo gibi elektronik iletişim araçlarını yanınızda bulundurmuyunuz. Bu araçları kullanmanız ve kopya çekmeye teşebbüs etmeniz hâlinde sınavınız geçersiz sayılacaktır.
- Başvuru şartlarını taşımadığınız hâlde sınava girmeniz, kopya çekmeniz, cevap kâğıdınızdaki fotoğraf ve bilgiler ile geçerli kimlik belgenizdeki (nüfus cüzdanı, pasaport veya sürücü belgenizdeki) bilgilerde uyumsuzluk olması, başka adayın sınav evrakını kullanmanız, geçerli kimlik belgenizi ve sınav giriş belgenizi ibraz edemediğiniz durumlarda sınavınız geçersiz sayılacaktır.
- Elektronik iletişim araçlarıyla kopya çekmeniz, yerinize başka birinin sınava girdiğinin belirlenmesi veya organize olarak kopya çekme eylemine karıştığınızın tespit edilmesi durumunda bir yıl süreyle sınava alınmayacaksınız.
- Sınavın değerlendirilmesi aşamasında, bilgisayar ortamında yapılan kopya analizinde ikili veya toplu kopya tespiti hâlinde sınavınız geçersiz sayılacaktır.

CEVAP KÂĞIDI VE SORU KİTAPÇIĞI İLE İLGİLİ AÇIKLAMALAR

- Cevap kâğıdınızdaki bilgilerin doğruluğunu kontrol ediniz. İlgili yere ad ve soyadınızı mürekkepli kalemle yazarak imzalayınız.
- Adınıza düzenlenmiş cevap kâğıdı üzerinde belirtilen sertifika ve kitapçık türünüze uygun soru kitapçığını almamış iseniz, bunu salon görevlilerine bildirerek uygun kitapçıkla değiştirilmesini sağlamakla yükümlüsünüz. Bu durumu salon görevlilerine bildirmediğiniz ya da geç bildirdiğinizde tüm sorumluluk size ait olacaktır.**
- Cevap kâğıdı üzerinde kodlamalarınızı kurşun kalemle yapınız.
- Değiştirmek istediğiniz bir cevabı, yumuşak silgiyle cevap kâğıdını örselemeden temizce siliniz ve yeni cevabınızı kodlayınız.
- Soru kitapçığının sayfalarını kontrol ediniz, baskı hatası var ise değiştirilmesini sağlayınız.
- Soru kitapçığının ön yüzündeki ilgili yerlere ad, soyad ve T.C. kimlik numaranızı yazınız.
- Her sorunun dört seçeneğinden sadece biri doğrudur. Doğru seçeneği, cevap kâğıdınızın ilgili sütununa soru numarasını dikkate alarak yuvarlağın dışına taşımadan kodlayınız. **Soru kitapçığı üzerinde yapılan cevaplandırmalar dikkate alınmayacaktır.**
- Yanlış cevaplarınız dikkate alınmadan sadece doğru cevaplarınız üzerinden puanlama yapılacaktır.
- Her ders kendi içerisinde **100** puan üzerinden değerlendirilecektir. Başarılı sayılabilmemiz için her dersten ayrı ayrı en az **70** puan almanız gerekir.
- Soruları ve sorulara verdiğiniz cevapları, yanınızda götürmek amacıyla kaydetmeyiniz; hiçbir şekilde dışarı çıkarmayınız.
- Sınav bitiminde, sınav giriş belgesi, soru kitapçığı ve cevap kâğıdını salon görevlilerine teslim ediniz.**

Arka kapaktaki açıklamalara geçiniz.

1. Aşağıdakilerden hangisi trafik kazası grubuna girer?

- A) Virajı alamayan aracın devrilmesi
- B) Kara yolunda park etmiş olan aracın yanması
- C) Kara yolunun doğal nedenlerle trafiğe kapanması
- D) Duran otomobil üzerine inşaat hâlindeki binadan tuğla düşmesi

2. İnsan vücudunda bulunan damarlarla ilgili olarak aşağıda verilen bilgilerden hangisi **yanlıştır**?

- A) Atardamarlar kanı kalpten dokulara taşır.
- B) Toplardamarlar kanı kalpten vücuda taşır.
- C) Kılcal damarlardaki kan basıncı diğer damarlardan azdır.
- D) Atardamarlardaki kan basıncı toplardamarlardan fazladır.

3. Araçlarda ilk yardım çantası bulundurulmasının amacı aşağıdakilerden hangisidir?

- A) Araç donanımını tamamlamak
- B) Araç muayenelerinde göstermek
- C) Trafik denetimlerinde göstermek
- D) Kazalarda ilk yardım için kullanmak

4. Aşağıdakilerden hangisi bilinç kaybı olan bir kazazedenin solunum yolunu tıkayarak boğulmasına sebep olabilir?

- A) Çenenin kasılması
- B) Vücudun kasılması
- C) Dilin geriye kaçması
- D) Baş-çene pozisyonu verilmesi

5. "Ağızdan ağıza" suni solunum yapılacak olan kazazedede boyun travması **yoksa**, verilecek **en doğru** pozisyon aşağıdakilerden hangisidir?

- A) Sırtüstü yatar pozisyonda iken çenesinin göğsüne degecek şekilde olması
- B) Sırtüstü yatar pozisyonda iken başının geriye doğru olması
- C) Başının altına yastık konularak sırtüstü yatırılması
- D) Yastıksız olarak sırtüstü yatırılması

6. Aşağıdaki organlardan hangisinin yaralanması durumunda öksürme ile ağızdan pembe köpüklü kan gelir?

- A) Mide
- B) Dalak
- C) Akciğer
- D) Karaciğer

7. İlk yardım yapan kişi, yaralının omuzuna hafifçe dokunarak "iyi misiniz?" diye sorar.

Bu davranış ile yaralının hangi durumu kontrol edilir?

- A) Bilinci
- B) Ağız içi
- C) Solunumu
- D) Göğüs hareketi

8. 1- Suni solunum uygulanması
2- Dolaşımın değerlendirilmesi
3- Kalp masajı uygulanması
4- Hava yolu açıklığının sağlanması

Yukarıda karışık olarak verilen **yeniden canlandırma** basamaklarının doğru sıralanması nasıl olmalıdır?

- A) 1 - 2 - 3 - 4
- B) 2 - 3 - 1 - 4
- C) 3 - 2 - 1 - 4
- D) 4 - 1 - 2 - 3

9. • Geçici hafıza kaybı
• Burundan kan gelmesi
• Göz bebeklerinde büyüklük farkı

Yukarıdaki belirtiler, hangi bölge yaralanmalarında **daha çok** görülür?

- A) Baş
- B) Karın
- C) Göğüs
- D) Omurga

10. Yanık vakalarında uygulanan ilk yardımda aşağıdakilerden hangisinin yapılması **yanlıştır**?

- A) Bilinci yerinde ise bol su verilmesi
- B) Yanığa bağlı oluşan su dolu kabarcıkların patlatılması
- C) Kimyasal madde yanıklarında yanan bölgenin bol su ile yıkanması
- D) Kazazedenin alevli yanması durumunda hava ile temasının kesilmesi

11. Kaburga kemiği kırıklarında yaralı hangi pozisyonda hastaneye sevk edilir?

- A) Yan yatış
- B) Yüzüstü yatış
- C) Sırtüstü yatış
- D) Oturuş veya yarı oturuş

12. Burkulmalarda uygulanacak ilk yardım-
la ilgili olarak aşağıdakilerden hangisi
doğrudur?

- A) Şişliği azaltmak için buz tatbik edilmesi
- B) Eklemdeki ağrıya rağmen hemen hareket ettirilmesi
- C) Burkulma bacakta ise kalp seviyesinden aşağıda tutulması
- D) Eklem bölgesindeki şişliği azaltmak için turnike uygulanması

13. Üzerinde yaralı taşınan sedyenin taşınma
yönü nasıl olmalıdır?

- A) Yaralının isteğine göre değişir.
- B) Yaralının yarasına göre değişir.
- C) Yaralının başı gidiş yönünde olacak şekilde
- D) Yaralının ayakları gidiş yönünde olacak şekilde

14. Egzoz gazına maruz kalmanın sonucu
olarak yetersiz soluyan hastaya aşağıdaki-
lerden hangisi uygulanır?

- A) Kusturmak
- B) Tuzlu su içirmek
- C) Yoğurt yedirmek
- D) Açık havaya çıkarmak

15. Alkollü içki içen bir sürücüde aşağıdaki
durumlardan hangisi görülür?

- A) Dinç ve zinde olma
- B) Reflekslerinde zayıflama
- C) Manevra kabiliyetinde artma
- D) Aşırı hareketli ve uyumlu olma

İLK YARDIM BİLGİSİ TESTİ BİTTİ.
TRAFİK VE ÇEVRE BİLGİSİ TESTİNE GEÇİNİZ.

1. Yayaların, hayvanların ve araçların kara yolları üzerindeki hâl ve hareketlerine ne ad verilir?

- A) Erişme B) Ulaşım
C) Trafik D) Taşıma

2. Işıklı trafik işaret cihazında, hangisinin yanması yolun trafiğe kapanmak üzere olduğunu bildirir?

- A) Kırmızı ışıkla birlikte yanan sarı ışık
B) Yeşil ışıktan sonra yanan sarı ışık
C) Aralıklı yanıp sönen kırmızı ışık
D) Aralıklı yanıp sönen sarı ışık

3. Şekildeki trafik görevlisinin yapmış olduğu işaretin sürücüler için anlamı nedir?

- A) Geç
B) Hızlan
C) Yavaşla
D) Sağa yanaş ve dur







4. Şekildeki trafik işareti aşağıdakilerden hangisine yaklaşıldığını bildirir?

- A) Okul geçidine
B) Yürüyüş yoluna
C) Gençlik kampına
D) Alt veya üst geçitlere



5. Aşağıdakilerden hangisi yandan rüzgâr işaretidir?

- A)  B) 
C)  D) 

6. Şekildeki trafik işareti neyi bildirir?

- A) Kaygan yola yaklaşıldığını
B) Sola dönmeyi yasaklandığını
C) Sola tehlikeli viraja yaklaşıldığını
D) Sol taraftan tek yönlü yola girileceğini







7. Şekildeki trafik işareti aşağıdakilerden hangisini bildirir?

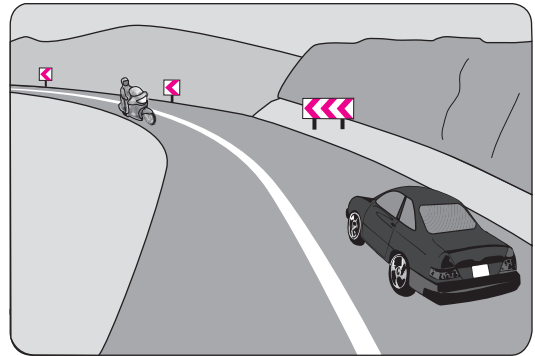
- A) Bisiklet girişinin yasak olduğunu
B) Motosiklet girişinin yasak olduğunu
C) Sadece motosikletlilerin girebileceğini
D) Motosikletler için hız sınırlamasının olduğunu



8. Aşağıdakilerden hangisi azami hız sınırlaması anlamındadır?

- A)  B) 
C)  D) 

9. Şekildeki devamlı yol çizgisi sürücülere neyi bildirir?

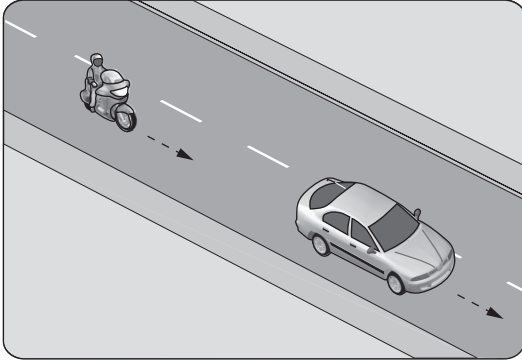


- A) Öndeki araçların geçilemeyeceğini
B) Hiçbir sebeple durulamayacağını
C) Sağ şeritten gidilemeyeceğini
D) Karşı şeride geçilebileceğini

10. Aksine bir işaret bulunmadıkça, yerleşim yeri içinde azami hızı saatte 30 kilometre olan taşıt aşağıdakilerden hangisidir?

- A) Otobüs B) Kamyon
C) Motosiklet D) Motorlu bisiklet

11. Aksine bir durum yoksa şekildeki motosiklet sürücüsü 60 km/saat hızla seyrederken önündeki araca en fazla kaç metre yaklaşabilir?



- A) 10 B) 20 C) 30 D) 40

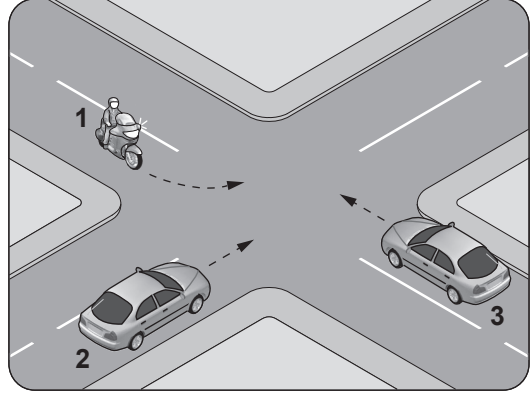
12. Dönel kavşaktan, geriye dönüşlerde aşağıdakilerden hangisinin yapılması yasaktır?

- A) Ada etrafında dönerken gereksiz yere şerit değiştirmek
B) Dönüş sonrası hızının gerektirdiği şeride girmek
C) Orta adaya bitişik şeritten dönüşe geçmek
D) Sağa ve sola dönüş kurallarına uymak

13. Arkasındaki aracın geçme uyarısını alan araç sürücüsünün aşağıdakilerden hangisini yapması yanlıştır?

- A) Uzağı gösteren lambaları yanıyorsa, yakını gösteren lambaları yakması
B) Daha erken davranarak önündeki aracı geçmeye başlaması
C) Önünde araç varsa takip mesafesini artırması
D) Aracını, izlediği şeridin sağından sürmesi

14. Şekle göre sola dönüş yapmak isteyen 1 numaralı motosiklet sürücüsü ne yapmalıdır?

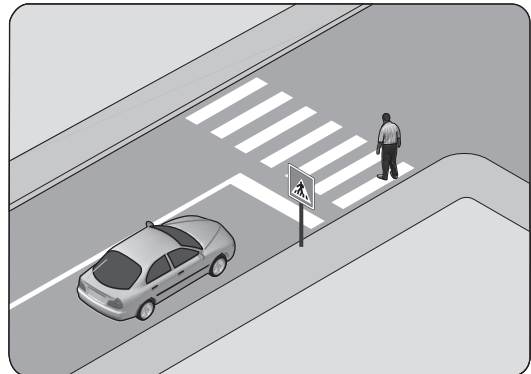


- A) Geçiş hakkını kendisi kullanmalı
B) Diğer araçların durmasını sağlamalı
C) 2 ve 3 numaralı araçların geçmesini beklemeli
D) 3 numaralı araca yol verip, 2 numaralı araçtan önce dönmeli

15. Kontrolsüz kavşakta sürücülerin aşağıdakilerden hangisini yapması doğrudur?

- A) Şerit değiştirmesi
B) Öndeki aracı geçmesi
C) Aracın hızını artırması
D) Geçiş hakkı kuralına uyması

16. Şekle göre sürücü nasıl davranmalıdır?



- A) Geçiş hakkını yayaya vermeli
B) Geçiş hakkını kendi kullanmalı
C) Korna çalıp yayayı durdurmalı
D) Yayanın yola girmesini önlemeli

17. Geceleyin öndeki aracı yakından takip ederken hangi ışıkları yakmak zorunludur?

- A) Sis ışıklarını
- B) Park ışıklarını
- C) Uzağı gösteren ışıkları
- D) Yakını gösteren ışıkları

18. Okul taşıtlarının arkasındaki DUR ışıklı işaretinin yanması neyi bildirir?

- A) Taşıtın okula yaklaşmış olduğunu
- B) Öğrencilerin indirilip bindirildiğini
- C) Taşıtın geri manevra yaptığını
- D) Taşıtın arıza yaptığını

19. A2 sınıfı sürücü belgesine sahip sürücüler, kendi sınıfı dışında aşağıdakilerden hangisini sürebilirler?

- A) Otobüs
- B) Kamyon
- C) Minibüs
- D) Motorlu bisiklet

20. Araç kornalarının kullanımı ile ilgili olarak aşağıdakilerden hangisi yanlıştır?

- A) Korkutmadan uyarması
- B) Ses tonunun sabit olması
- C) Uyarı amacı dışında kullanılması
- D) Rahatsız etmeyecek şekilde kullanılması

TRAFİK VE ÇEVRE BİLGİSİ TESTİ BİTTİ.
MOTOR VE ARAÇ TEKNİĞİ BİLGİSİ TESTİNE
GEÇİNİZ.

1. Motosikletin hızını sürücüye bildiren şekildeki göstergenin adı aşağıdakilerden hangisidir?



- A) Zaman saati B) Hız göstergesi
C) Devir göstergesi D) Yakıt göstergesi

2. Motorlar soğutma sistemlerine göre nasıl sınıflandırılır?

- A) Yağ ve motorin soğutmalı
B) Hava ve benzin soğutmalı
C) Su ve hava soğutmalı
D) Su ve yağ soğutmalı

3. Aşağıdakilerden hangisi motorun parçasıdır?

- A) Karter B) Tekerlek
C) Amortisör D) Yakıt deposu

4. Aşağıdakilerden hangisi yüksek gerilimi kıvılcıma dönüştürür?

- A) Akü B) Buji
C) Supap D) Enjektör

5. Akü elektroliti son derece aşındırıcı olduğundan metal veya boyalı yüzeylere hasar verebilir.

Buna göre akü bakımı yapılırken, akü elektroliti herhangi bir biçimde metal veya boyalı yüzeylere temas ederse ilk yapılması gereken nedir?

- A) Tiner ile yıkamak
B) Fren hidroliği ile yıkamak
C) Sülfürik asit ile yıkamak
D) Bol su ile yıkamak

6. Ateşleme için yeterli akım oluşmaz ise egzoz dumanı hangi renkte olur?

- A) Mavi B) Beyaz
C) Siyah D) Kırmızı

7. Motosiklette yakıt ekonomisi için belirli kilometre dolunca aşağıdakilerden hangisi değiştirilir?

- A) Sinyal ampulü B) Hava filtresi
C) Kilometre saati D) Yakıt göstergesi

8. Aşağıdakilerden hangisinin motor çalışma sıcaklığına ulaşmadan önce yapılması uygun değildir?

- A) Vitesin yumuşak bir şekilde yükseltilmesi
B) Sol sinyal lambalarının yakılması
C) Yan aynaların kontrol edilmesi
D) Ani olarak gaz verilmesi

9. Hüzme değiştirme anahtarının şekildeki konumda olması, motosiklet farının hangi hüzmede olduğunu gösterir?



- A) Kısa B) Park
C) Uzun D) Sinyal

10. Aşağıdakilerden hangisi motosiklette debriyaj balatasının sıyrılarak aşınmasına sebep olur?

- A) Ani ve sert kalkış yapılması
B) Motosikletin hızlı kullanılması
C) Motosikletin yavaş kullanılması
D) Park hâlinde viteste bırakılması

TEST BİTTİ.

CEVAPLARINIZI KONTROL EDİNİZ.

SINAV SÜRESİNCE UYULACAK KURALLAR

- 1. Adaylar, sınav kurallarına ve salon görevlilerinin tüm uyarılarına uymak zorundadırlar. Kurallara ve uyarılara uymayan adayların sınavları geçersiz sayılacaktır.**
2. Sınav başladıktan sonra adayların salon görevlileri ve birbirleri ile konuşmaları, kalem, silgi vb. şeyleri istemeleri yasaktır.
3. Adaylar sınav süresince, sınav giriş belgesi ile birlikte kimlik belgelerinden birini (nüfus cüzdanı, pasaport veya sürücü belgesi) masalarının üzerinde bulundurmamak zorundadırlar.
- 4. Sınav evraklarını teslim etmeyen, soru kitapçıklarının sayfalarından bir kısmını eksik teslim edenlerin sınavları geçersiz sayılacaktır.**

SALON GÖREVLİLERİNCE SINAV BAŞLAMADAN ÖNCE ADAYLARA YAPILACAK SON UYARI

- Soracağınız bir şey var mı? Varsa şimdi sorunuz.
- Sınav başladıktan sonra sorularınıza cevap verilmeyecektir.
- Başlama zilini bekleyiniz.
- Hepinize başarılar dileriz.

(Salon başkanı başlama ve bitiş saatini tahtaya yazacaktır.)

Bu kitapçığın her hakkı saklıdır. Hangi amaçla olursa olsun, kitapçığın tamamının veya bir kısmının Millî Eğitim Bakanlığı Yenilik ve Eğitim Teknolojileri Genel Müdürlüğünün yazılı izni olmadan kopya edilmesi, fotoğraflarının çekilmesi, bilgisayar ortamına alınması, herhangi bir yolla çoğaltılması, yayımlanması veya başka bir amaçla kullanılması yasaktır. Bu yasağa uymayanlar, doğabilecek cezai sorumluluğu ve kitapçığın hazırlanmasındaki mali külfeti peşinen kabullenmiş sayılır.

“BAŞLAYINIZ” DENİLMEDEN SORU KİTAPÇIĞINI AÇMAYINIZ.

08.03.2014 TARİHİNDE YAPILAN MOTORLU TAŞIT SÜRÜCÜ ADAYLARI SINAVI (MTSAS)
K KİTAPÇIĞI CEVAP ANAHTARIDIR

| İLK YARDIM BİLGİSİ | TRAFİK VE ÇEVRE BİLGİSİ | MOTOR VE ARAÇ TEKNİĞİ BİLGİSİ |
|--------------------|-------------------------|-------------------------------|
| 1. A | 1. C | 1. B |
| 2. B | 2. B | 2. C |
| 3. D | 3. D | 3. A |
| 4. C | 4. A | 4. B |
| 5. B | 5. B | 5. D |
| 6. C | 6. C | 6. C |
| 7. A | 7. B | 7. B |
| 8. D | 8. A | 8. D |
| 9. A | 9. A | 9. C |
| 10. B | 10. D | 10. A |
| 11. D | 11. C | |
| 12. A | 12. A | |
| 13. C | 13. B | |
| 14. D | 14. C | |
| 15. B | 15. D | |
| | 16. A | |
| | 17. D | |
| | 18. B | |
| | 19. D | |
| | 20. C | |